

# Evaluación para el Acceso a la Universidad

Convocatoria de 2017

Materia: GEOGRAFÍA



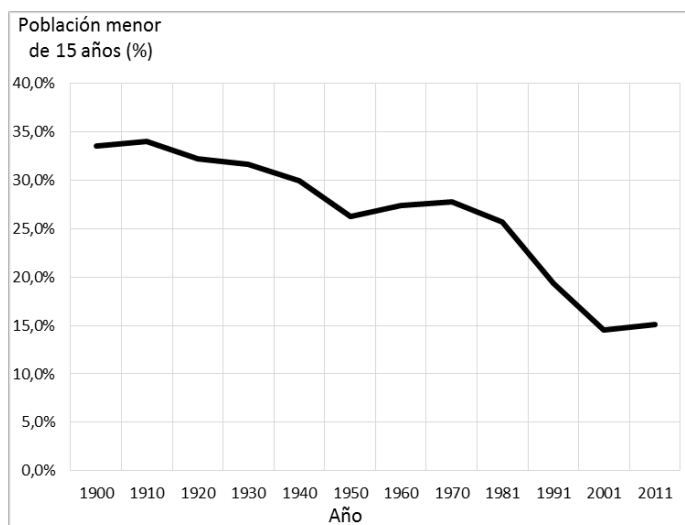
**Instrucciones:** Este examen consta de dos opciones, opción A y B. El alumno deberá contestar **sólo a una de ellas**. Como criterio general de corrección para el conjunto de la prueba se valorará la presentación, la ortografía y la redacción.

## OPCIÓN A

**I. PRÁCTICA (Puntuación: 3 puntos. En esta pregunta, además de los contenidos, se valorará la presentación, coherencia, estructura y estilo de la respuesta, además de la ortografía)**

Atendiendo al gráfico siguiente, responda a las siguientes cuestiones:

- 1.- Evolución de la población menor de 15 años en España entre 1900 y 2011.
- 2.- Factores que influyen en la evolución de la población menor de 15 años.
- 3.- Consecuencias que se pueden derivar de esta tendencia.



**II. TEMA (Puntuación: 3 puntos. En esta pregunta, además de los contenidos, se valorará la presentación, coherencia, estructura y estilo de la respuesta, además de la ortografía)**

Desarrolle el siguiente tema:

*Naturaleza y medio ambiente español. Problemas medioambientales: riesgos naturales y amenazas del ser humano (contaminación, deforestación, sobreexplotación...). Políticas medioambientales de protección, conservación y mejora. La realidad de Castilla-La Mancha.*

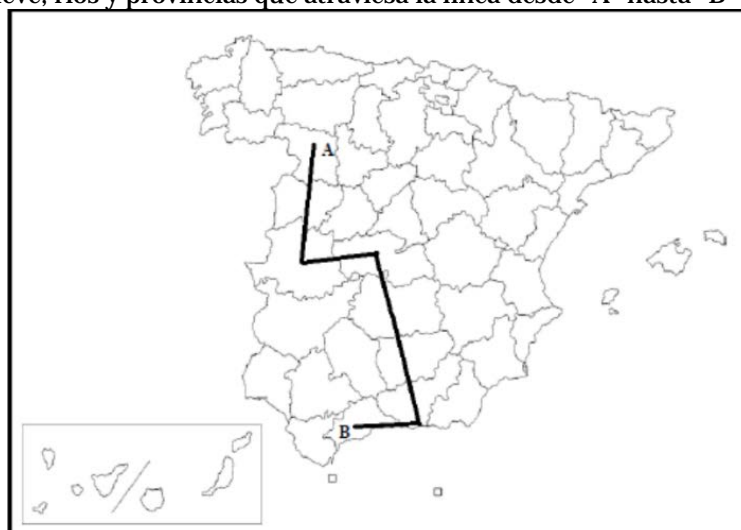
**III. CONCEPTOS (Puntuación: 2 puntos)**

Defina con la mayor precisión posible, y de forma breve, estos cuatro conceptos e indique, siempre y cuando sea posible, un ejemplo relativo a España o a Castilla-La Mancha:

*Policultivo; suburbio; longitud; relieve apalachense*

**IV. LOCALIZACIÓN (Puntuación: 2 puntos)**

Cite las unidades del relieve, ríos y provincias que atraviesa la línea desde "A" hasta "B"



# Evaluación para el Acceso a la Universidad

Convocatoria de 2017

Materia: GEOGRAFÍA



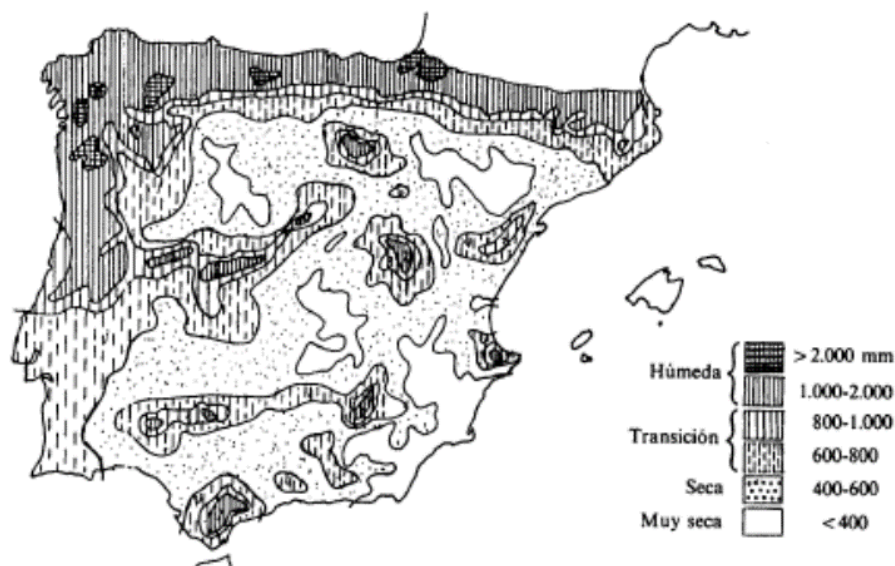
Instrucciones: Este examen consta de dos opciones, opción A y B. El alumno deberá contestar sólo a una de ellas. Como criterio general de corrección para el conjunto de la prueba se valorará la presentación, la ortografía y la redacción.

## OPCIÓN B

**I. PRÁCTICA (Puntuación: 3 puntos. En esta pregunta, además de los contenidos, se valorará la presentación, coherencia, estructura y estilo de la respuesta, además de la ortografía)**

A partir del siguiente mapa de precipitaciones en España, responda a las siguientes cuestiones:

- 1.- Comente la distribución de precipitaciones en España.
- 2.- Causas que explican la desigual distribución de precipitaciones.
- 3.- Consecuencias que se pueden derivar.



**II. TEMA (Puntuación: 3 puntos. En esta pregunta, además de los contenidos, se valorará la presentación, coherencia, estructura y estilo de la respuesta, además de la ortografía)**

Desarrolle el siguiente tema:

*Los espacios turísticos. Importancia del turismo. Características: la oferta turística, tipos de turismo, áreas turísticas y la demanda turística. Problemas del turismo. Nuevos tipos de turismo.*

**III. CONCEPTOS (Puntuación: 2 puntos)**

Defina con la mayor precisión posible, y de forma breve, estos cuatro conceptos e indique, siempre y cuando sea posible, un ejemplo relativo a España o a Castilla-La Mancha:

*Saldo migratorio; monopolio; berrocal; cárcava*

**IV. LOCALIZACIÓN (Puntuación: 2 puntos)**

Cite las unidades del relieve, ríos y provincias que atraviesa la línea desde "A" hasta "B"

